

7

● RF(A)/100/3352

A

ಒಟ್ಟು ಮುದ್ರಿತ ಪುಟಗಳ ಸಂಖ್ಯೆ : 12 ]

Total No. of Printed Pages : 12 ]

ಒಟ್ಟು ಪ್ರಶ್ನೆಗಳ ಸಂಖ್ಯೆ : 38 ]

Total No. of Questions : 38 ]

ಸಂಕೇತ ಸಂಖ್ಯೆ : 85-K

Code No. : 85-K

**CCE RF  
REVISED  
FULL SYLLABUS**

ವಿಷಯ : ಸಮಾಜ ವಿಜ್ಞಾನ

**Subject : SOCIAL SCIENCE**

(ಕನ್ನಡ ಮಾಧ್ಯಮ / Kannada Medium)

(ಶಾಲಾ ಅಭ್ಯರ್ಥಿ / Regular Fresh)

ದಿನಾಂಕ : 15. 04. 2023 ]

[ Date : 15. 04. 2023

ಸಮಯ : ಬೆಳಿಗ್ಗೆ 10-30 ರಿಂದ ಮಧ್ಯಾಹ್ನ 1-45 ರವರೆಗೆ ] [ Time : 10-30 A.M. to 1-45 P.M.

ಗರಿಷ್ಠ ಅಂಕಗಳು : 80 ]

[ Max. Marks : 80

ಪರೀಕ್ಷಾರ್ಥಿಗಾಗಿ ಸಾಮಾನ್ಯ ಸೂಚನೆಗಳು :

1. ಈ ಪ್ರಶ್ನೆಪತ್ರಿಕೆಯು ವಸ್ತುನಿಷ್ಠ ಮತ್ತು ವಿಷಯನಿಷ್ಠ ಮಾದರಿಯ ಒಟ್ಟು 38 ಪ್ರಶ್ನೆಗಳನ್ನು ಹೊಂದಿದೆ.
2. ಈ ಪ್ರಶ್ನೆಪತ್ರಿಕೆಯನ್ನು ಹಿಮ್ಮುಖ ಜಾಕೆಟ್ ಮೂಲಕ ಮೊಹರು (ಸೀಲ್) ಮಾಡಲಾಗಿದೆ. ಪರೀಕ್ಷೆ ಪ್ರಾರಂಭವಾಗುವ ಸಮಯಕ್ಕೆ ನಿಮ್ಮ ಪ್ರಶ್ನೆಪತ್ರಿಕೆಯ ಬಲಬದಿ ಪಾರ್ಶ್ವವನ್ನು ಕತ್ತರಿಸಿ, ಪ್ರಶ್ನೆಪತ್ರಿಕೆಯಲ್ಲಿ ಎಲ್ಲಾ ಪುಟಗಳು ಇವೆಯೇ ಎಂದು ಪರೀಕ್ಷಿಸಿಕೊಳ್ಳಿ.
3. ವಸ್ತುನಿಷ್ಠ ಮತ್ತು ವಿಷಯನಿಷ್ಠ ಮಾದರಿಯ ಪ್ರಶ್ನೆಗಳಿಗೆ ಕೊಟ್ಟಿರುವ ಸೂಚನೆಗಳನ್ನು ಪಾಲಿಸಿ.
4. ಬಲ ಭಾಗದಲ್ಲಿ ಕೊಟ್ಟಿರುವ ಅಂಕಗಳು ಪ್ರಶ್ನೆಗಳಿಗಿರುವ ಪೂರ್ಣ ಅಂಕಗಳನ್ನು ತೋರಿಸುತ್ತವೆ.
5. ಪ್ರಶ್ನೆಪತ್ರಿಕೆಯನ್ನು ಓದಿಕೊಳ್ಳಲು 15 ನಿಮಿಷಗಳ ಕಾಲಾವಕಾಶವು ಸೇರಿದಂತೆ, ಉತ್ತರಿಸಲು ನಿಗದಿಪಡಿಸಲಾದ ಸಮಯವನ್ನು ಪ್ರಶ್ನೆಪತ್ರಿಕೆಯ ಮೇಲ್ಭಾಗದಲ್ಲಿ ನೀಡಲಾಗಿದೆ.

1

[ Turn over

ಇಲ್ಲಿಂದ ಕತ್ತರಿಸಿ

TEAR HERE TO OPEN THE QUESTION PAPER  
ಪ್ರಶ್ನೆಪತ್ರಿಕೆಯನ್ನು ತೆರೆಯಲು ಇಲ್ಲಿ ಕತ್ತರಿಸಿ

Tear here

- I. ಕೆಳಗಿನ ಪ್ರಶ್ನೆಗಳಿಗೆ ಅಥವಾ ಅಪೂರ್ಣ ಹೇಳಿಕೆಗಳಿಗೆ ನಾಲ್ಕು ಆಯ್ಕೆಗಳನ್ನು ನೀಡಲಾಗಿದೆ. ಅವುಗಳಲ್ಲಿ ಸೂಕ್ತವಾದ ಒಂದು ಉತ್ತರವನ್ನು ಆರಿಸಿ, ಅದರ ಕ್ರಮಾಕ್ಷರದೊಡನೆ ಪೂರ್ಣ ಉತ್ತರವನ್ನು ಬರೆಯಿರಿ :

8 × 1 = 8

1. ಸಹಾಯಕ ಸೈನ್ಯ ಪದ್ಧತಿಗೆ ಸಹಿ ಮಾಡಿದ ಮೊದಲ ಸಂಸ್ಥಾನ

(A) ಔದ್‌ನ ನವಾಬ



(B) ಜುನಾಗಢದ ನವಾಬ

(C) ಹೈದರಾಬಾದಿನ ನಿಜಾಮ

(D) ಗ್ವಾಲಿಯರ್‌ನ ಸಿಂಧಿಯಾ



2. ಗೋವಾ ಭಾರತದ ಒಕ್ಕೂಟಕ್ಕೆ ಸೇರ್ಪಡೆಯಾದುದು

(A) 1951

(B) 1961

(C) 1953

(D) 1963



3. ಡಾ. ಡಿ.ಎಂ. ನಂಜುಡಪ್ಪ ಸಮಿತಿ ರಚನೆಯಾದ ಉದ್ದೇಶ

(A) ಕೋಮುವಾದ ತಡೆಯಲು



(B) ಪ್ರಾದೇಶಿಕವಾದ ತಡೆಯಲು

(C) ಅನಕ್ಷರತೆ ತಡೆಯಲು

(D) ಭ್ರಷ್ಟಾಚಾರ ತಡೆಯಲು



4. 'ಮಾನವ ಕುಲ ತಾನೊಂದೇ ವಲಂ' ಎಂದು ಹೇಳಿದವರು

(A) ಪಂಪ

(B) ರನ್ನ

(C) ಜನ್ನ



(D) ಪೊನ್ನ

5. ರಾಜೇಶನು ಇಪ್ಪತ್ತೈದು ಸಾವಿರ ರೂಪಾಯಿಯ ಟಿ.ವಿ.ಯನ್ನು ಕೊಳ್ಳುತ್ತಾನೆ. ಅದು ಎರಡೇ ದಿನದಲ್ಲಿ ಕೆಟ್ಟುಹೋಗುತ್ತದೆ. ಅವನ ಅಹವಾಲನ್ನು ಟಿ.ವಿ. ಕಂಪನಿ ಮನ್ನಿಸುವುದಿಲ್ಲ. ರಾಜೇಶನು ದೂರು ಸಲ್ಲಿಸಬೇಕಾದ ಗ್ರಾಹಕ ವೇದಿಕೆಯು

(A) ಜಿಲ್ಲಾ ಗ್ರಾಹಕ ವೇದಿಕೆ



(B) ರಾಜ್ಯ ಗ್ರಾಹಕ ಅಯೋಗ

(C) ರಾಷ್ಟ್ರೀಯ ಗ್ರಾಹಕ ಅಯೋಗ

(D) ತಾಲೂಕು ಗ್ರಾಹಕ ವೇದಿಕೆ



6. ಇವುಗಳಲ್ಲಿ ಸಾಂಪ್ರದಾಯಿಕ ಶಕ್ತಿ ಸಂಪನ್ಮೂಲಗಳಿಗೆ ಒಂದು ಉತ್ತಮ ಉದಾಹರಣೆ

(A) ಪವನ ಶಕ್ತಿ

(B) ಉಬ್ಬರವಿಳಿತ ಶಕ್ತಿ

(C) ಸೌರಶಕ್ತಿ



(D) ಸ್ವಾಭಾವಿಕ ಅನಿಲ

7. ನೀತಿ ಅಯೋಗದ ನೇತೃತ್ವವನ್ನು ಪ್ರಧಾನ ಮಂತ್ರಿಗಳು ವಹಿಸಿಕೊಂಡಿದ್ದರೆ ಅದರ ದಿನವಹಿ ಆಡಳಿತವನ್ನು ನೋಡಿಕೊಳ್ಳುವವರು



(A) ರಾಷ್ಟ್ರಪತಿಗಳು

(B) ಕಾರ್ಯದರ್ಶಿಗಳು

(C) ಉಪ ಪ್ರಧಾನಿಗಳು

(D) ಉಪಾಧ್ಯಕ್ಷರು



8. ಬಾಲ ಕಾರ್ಮಿಕ ನಿಷೇಧ ಮತ್ತು ನಿಯಂತ್ರಣ ಕಾಯ್ದೆಯನ್ನು ಜಾರಿಗೊಳಿಸಲಾದ ವರ್ಷ

(A) 1988

(B) 1994

(C) 1986

(D) 2006



II. ಕೆಳಗಿನ ಪ್ರತಿಯೊಂದು ಪ್ರಶ್ನೆಗೂ ಒಂದೊಂದು ವಾಕ್ಯದಲ್ಲಿ ಉತ್ತರ ಬರೆಯಿರಿ : 8 × 1 = 8

9. ವೆಲ್ಲೆಸ್ಲಿಯು ಸಹಾಯಕ ಸೈನ್ಯ ಪದ್ಧತಿಯನ್ನು ಏಕೆ ಜಾರಿಗೆ ತಂದನು ?



10. ಪ್ರಥಮ ವಿಶ್ವಸಮರಕ್ಕೆ ತತ್ಕ್ಷಣದ ಕಾರಣವೇನು ?

11. ಕೋಮುವಾದ ಎಂದರೇನು ?



12. ಪೂರ್ವಾಗ್ರಹ ಎಂದರೇನು ?



13. ಕಾಲಬೈಸಾಕಿ ಎಂದರೇನು ?

14. ಗಂಗಾನದಿ ಮುಖಜ ಭೂಮಿಯ ಮ್ಯಾಂಗ್ರೋವ್ ಅರಣ್ಯಗಳನ್ನು ಸುಂದರಬನ ಎಂದು ಏಕೆ ಕರೆಯುತ್ತಾರೆ ?

15. ಕೊರತೆಯ ಆಯವ್ಯಯ ಎಂದರೇನು ?



16. ಬ್ಯಾಂಕುಗಳು ತಾವು ನೀಡುವ ಸೇವೆಗೆ ಸೇವಾಶುಲ್ಕ ವಸೂಲು ಮಾಡುವ ಬ್ಯಾಂಕ್‌ಖಾತೆ ಯಾವುದು ?

III. ಕೆಳಗಿನ ಪ್ರತಿಯೊಂದು ಪ್ರಶ್ನೆಗೂ ಎರಡರಿಂದ ನಾಲ್ಕು ವಾಕ್ಯಗಳಲ್ಲಿ ಅಥವಾ ಅಂಶಗಳಲ್ಲಿ

ಉತ್ತರಿಸಿ :

8 × 2 = 16

17. ಅನಕ್ಷರತೆಯನ್ನು ಹೋಗಲಾಡಿಸಲು ಭಾರತ ಸರ್ಕಾರ ಕೈಗೊಂಡಿರುವ ಕ್ರಮಗಳೇನು ?



ಅಥವಾ

ಭಯೋತ್ಪಾದಕತೆಯ ನಿಗ್ರಹಕ್ಕೆ ಭಾರತ ಕೈಗೊಂಡಿರುವ ಕ್ರಮಗಳಾವವು ?

18. ಸಾಮಾಜಿಕ ಸ್ವರವಿನ್ಯಾಸವು ಎಲ್ಲಾ ದೇಶಗಳಲ್ಲೂ ಒಂದೇ ತೆರನಾಗಿಲ್ಲ. ವಿವರಿಸಿ.



ಅಥವಾ



ದೊಂಬಿಯ ಸ್ವರೂಪವನ್ನು ವಿವರಿಸಿ.

19. '1909 ರ ಭಾರತೀಯ ಪರಿಷತ್ ಕಾಯ್ದೆಯ ಮೂಲಕ ಬ್ರಿಟಿಷರು ಭಾರತೀಯರನ್ನು ಒಡೆದು ಆಳುವ ನೀತಿ ತೋರಿದರು.' ದೃಢೀಕರಿಸಿ.

20. ಭಾರತದ ಪ್ರಥಮ ಸ್ವಾತಂತ್ರ್ಯ ಸಂಗ್ರಾಮದ ಪರಿಣಾಮಗಳೇನು ?



21. ಭಾರತದಲ್ಲಿ ನೀರಾವರಿಯು ಅವಶ್ಯಕ. ಏಕೆ ?

22. ಭಾರತದ ಪೂರ್ವ ಕರಾವಳಿಯು ಅತಿಹೆಚ್ಚು ಚಂಡಮಾರುತ ಪೀಡಿತ ಪ್ರದೇಶವಾಗಿದೆ.

ಏಕೆ ?



23. ಹಸಿರು ಕ್ರಾಂತಿಗೆ ಪ್ರೇರಣೆಯಾದ ಅಂಶಗಳಾವವು ?

24. ಗ್ರಾಹಕ ರಕ್ಷಣಾ ಕಾಯ್ದೆಯ ಮುಖ್ಯ ಉದ್ದೇಶಗಳೇನು ?

IV. ಕೆಳಗಿನ ಪ್ರತಿಯೊಂದು ಪ್ರಶ್ನೆಗೂ ಆರು ವಾಕ್ಯಗಳಲ್ಲಿ ಅಥವಾ ಅಂಶಗಳಲ್ಲಿ ಉತ್ತರಿಸಿ :

9 × 3 = 27



25. “ನಾಲ್ವಡಿ ಕೃಷ್ಣರಾಜ ಒಡೆಯರು ತನ್ನ ಪ್ರಜೆಗಳಲ್ಲಿ ವಿದ್ಯಾಭ್ಯಾಸವು ವ್ಯಾಪಕವಾಗಿ ಹರಡಲು

ಆಸಕ್ತರಾಗಿದ್ದರು.” ದೃಢೀಕರಿಸಿ.



26. ಬಕ್ಸಾರ್ ಕದನದ ಪರಿಣಾಮಗಳನ್ನು ತಿಳಿಸಿ.

27. ಪ್ರಾರ್ಥನಾ ಸಮಾಜದ ಗುರಿಗಳೇನು ?



ಅಥವಾ

ಮಂದಗಾಮಿಗಳು ಬ್ರಿಟಿಷ್ ಸರ್ಕಾರದ ಮುಂದಿಟ್ಟ ಬೇಡಿಕೆಗಳಾವವು ?

28. ಜಗತ್ತಿನ ಆರ್ಥಿಕ ಸಮಸ್ಯೆಗಳನ್ನು ಪರಿಹರಿಸುವಲ್ಲಿ ಐ.ಎಂ.ಎಫ್.ನ ಪಾತ್ರವನ್ನು

ವಿಶ್ಲೇಷಿಸಿ.



29. ಅಸಂಘಟಿತ ವಲಯದ ಕೆಲಸಗಾರರು ಎದುರಿಸುತ್ತಿರುವ ಸಮಸ್ಯೆಗಳನ್ನು ಪಟ್ಟಿಮಾಡಿ.

30. ಮಣ್ಣಿನ ಸವೆತವು ಅನೇಕ ಸಮಸ್ಯೆಗಳಿಗೆ ಕಾರಣವಾಗುತ್ತದೆ. ಸ್ಪಷ್ಟೀಕರಿಸಿ.

31. ಭಾರತದ ಪೂರ್ವತೀರದಲ್ಲಿ ಕಂಡುಬರುವ ಪ್ರಮುಖ ಬಂದರುಗಳನ್ನು ಪಟ್ಟಿಮಾಡಿ.



ಅಥವಾ



ಭೂಕಂಪದ ಮುನ್ನೆಚ್ಚರಿಕೆಯ ಕ್ರಮಗಳನ್ನು ಪಟ್ಟಿಮಾಡಿ.

32. ಗ್ರಾಮೀಣ ಪ್ರದೇಶದಲ್ಲಿ ಮಹಿಳಾ ಸ್ವಸಹಾಯ ಸಂಘಗಳು ನಿರ್ವಹಿಸುವ ಪಾತ್ರವೇನು ?



ಅಥವಾ

ಕೇಂದ್ರ ಸರ್ಕಾರವು ಸಂಗ್ರಹಿಸುವ ತೆರಿಗೆಯೇತರ ಆದಾಯದ ಮೂಲಗಳಾವುವು ?

33. ಉದ್ಯಮಶೀಲತೆಯ ಗುಣಲಕ್ಷಣಗಳನ್ನು ತಿಳಿಸಿ.

ಅಥವಾ



ಬ್ಯಾಂಕುಗಳು ಗ್ರಾಹಕನಿಗೆ ಹಲವಾರು ಸೇವೆಗಳನ್ನು ಸಲ್ಲಿಸುತ್ತವೆ. ವಿವರಿಸಿ.

V. ಕೆಳಗಿನ ಪ್ರತಿಯೊಂದು ಪ್ರಶ್ನೆಗೂ ಎಂಟು ವಾಕ್ಯಗಳಲ್ಲಿ ಅಥವಾ ಅಂಶಗಳಲ್ಲಿ ಉತ್ತರಿಸಿ :

4 × 4 = 16

34. ಭಾರತ ಒಕ್ಕೂಟಕ್ಕೆ ಬೇರೆಲ್ಲಾ ಸಂಸ್ಥಾನಗಳ ವಿಲೀನಕ್ಕಿಂತ ಕಾಶ್ಮೀರದ ವಿಲೀನವು ವಿಶಿಷ್ಟವಾಗಿದೆ.

ಹೇಗೆ ?



35. ಇತ್ತೀಚಿನ ದಿನಗಳಲ್ಲಿ ಚೀನಾದೊಂದಿಗೆ ಭಾರತದ ಬಾಂಧವ್ಯ ಹದಗೆಟ್ಟಿದೆ. ಏಕೆ ?

36. “ಭಾರತದ ಆರ್ಥಿಕತೆಯಲ್ಲಿ ವ್ಯವಸಾಯವು ಪ್ರಮುಖ ಪಾತ್ರವನ್ನು ವಹಿಸುತ್ತದೆ.”

ಸ್ಪಷ್ಟೀಕರಿಸಿ.

37. ಭಾರತದ ಪ್ರಥಮ ಸ್ವಾತಂತ್ರ್ಯ ಸಂಗ್ರಾಮಕ್ಕೆ ರಾಜಕೀಯ ಹಾಗೂ ಆರ್ಥಿಕ ಕಾರಣಗಳನ್ನು

ವಿವರಿಸಿ.



ಅಥವಾ

ಜಲಿಯನ್ ವಾಲಾಬಾಗ್ ಹತ್ಯಾಕಾಂಡವನ್ನು ವಿವರಿಸಿ.

VI. 38. ಭಾರತದ ನಕ್ಷೆಯನ್ನು ಬರೆದು, ಅದರಲ್ಲಿ ಈ ಕೆಳಗಿನವುಗಳನ್ನು ಗುರುತಿಸಿ : 1 + 4 = 5

a)  $82\frac{1}{2}^{\circ}$  ಪೂರ್ವ ರೇಖಾಂಶ



b) ಕೊಚ್ಚಿ

c) ವಿಶಾಖ ಪಟ್ಟಣಂ

d) ಕೋಯ್ನಾ



ದೃಷ್ಟಿ ವಿಕಲಚೇತನ ವಿದ್ಯಾರ್ಥಿಗಳಿಗೆ ಪರ್ಯಾಯ ಪ್ರಶ್ನೆ : (ಪ್ರಶ್ನೆ ಸಂಖ್ಯೆ 38 ರ ಬದಲಿಗೆ)

ವಿವಿಧೋದ್ದೇಶ ನದಿ ಕಣಿವೆ ಯೋಜನೆಗಳ ಮುಖ್ಯ ಉದ್ದೇಶಗಳನ್ನು ತಿಳಿಸಿ.

5

1. Four choices are given for each of the following questions / incomplete statements. Only one of them is correct or most appropriate. Choose the correct answer and write the complete answer along with its letter of alphabet.

8 × 1 = 8



1. In 1453 the City of Constantinople was captured by

(A) the Arabs

(B) the Ottoman Turks

(C) the Italians

(D) the Portuguese.

2. Quit India Movement provided leadership to non-Congress leaders. Identify the Non-Congress leader from the following :

(A) Kasturba Gandhi

(B) Dr. B. R. Ambedkar

(C) Jayaprakash Narayan

(D) Maulana Abul Kalam Azad.









3. The Prime Minister of India who signed the Panchsheel Principles with China's Premier Chou En-Lai was

(A) Jawaharlal Nehru

(B) Lal Bahadur Shastri

(C) Indira Gandhi

(D) Atal Bihari Vajpayee.

4. "Balika Sanghas" for the empowerment of girls have to be found and maintained by 
- (A) Child Right Protection Units
- (B) Children Gram Sabha 
- (C) Child Protection Committee
- (D) Anganwadis.
5. Dras near Kargil has recorded the lowest temperature, because it is 
- (A) in the area of vertical rays of the sun
- (B) near to the sea 
- (C) in a very high altitude
- (D) influenced by South-West Monsoon.
6. Article 21 of our Constitution says 
- (A) It is the duty of the government to support the educational interest of Scheduled Castes and Tribes 
- (B) It provides for the establishment of Minority educational institutions
- (C) It provides that social justice and people's welfare is the duty of the State Government 
- (D) It provides education as the Fundamental Right of every child. 

7. The non-tax revenue collected by the government among the following is

(A) Goods and Services Tax (GST)

(B) Various penalties

(C) Import-Export taxes

(D) Stamp duty.

8. The entrepreneur popularly known as "Father of the White Revolution" is

(A) Dr. Pratap Reddy

(B) Naresh Goyal

(C) Verghese Kurien

(D) Kiran Mazumdar Shah.

II. Answer the following questions in a sentence each :

$8 \times 1 = 8$

9. Who implemented 'dual government' in Bengal ?

10. How did Governor-General William Bentinck support Raja Rammohan Roy's fight against Sati system ?

11. When is Human Rights Day celebrated ?

12. What is female foeticide ?

13. The Tropical Deciduous Forests are also called "Monsoon Forests". Why ?

14. What is density of population ?

15. What is Barter system ?

16. Why is March 15, 1962 an important day in the history of World Consumers' movement ?

III. Answer the following questions in *four* points each :

8 × 2 = 16

17. How could the British place Indian states under their control through Subsidiary Alliance ?
18. How was Goa liberated from Portuguese in 1961 ?
19. What are the aims of India's Foreign Policy ?

OR

Explain the functions of the UN Security Council.

20. How does social stratification exist in different forms ?

OR

Which way did D. Devraj Urs bring social reforms in Karnataka in 1970's ?

21. Distinguish between Eastern Ghats and Western Ghats.
22. What are the causes for soil erosion ?
23. "Self help groups have increased the dignity and autonomy of women." How ?
24. "Globalisation has benefited the consumers." Elucidate.

Answer the following questions in *six* sentences each :

9 × 3 = 27

25. "The new thinking and perception emerged because the British Education created a new generation of Indians." How ?
26. Explain the Rebellion of Bedas of Hulagali.

OR

Explain the aims of Arya Samaj.

27. "The Second World War was the most devastating war." How ?
28. What are your suggestions to eradicate communalism being an internal problem of India ?
29. Differentiate between the labourers from organised sector and unorganised sector.
30. What is the importance of transport and communication ?

OR

Mention the factors that influence the localisation of industries.

31. List out the precautionary measures of earthquakes.
32. What are the key features of Panchayat Raj system in India ?

OR

What are the functions of Reserve Bank of India ?

33. Mention the financial services provided by the post offices.

OR

List out the main functions of an entrepreneur.

Answer the following question in about eight sentences each : 4 x 4 = 16

34. Explain the causes for the failure of the First War of Indian Independence of 1857.
35. Illustrate the concern for social equality of Dr. B. R. Ambedkar.

OR

How did radicals further intensify the Indian Freedom Struggle ?

36. Describe the relationship between India and China from Sindhu River Civilisation till recent times.
37. What is the importance of agriculture in our country's economic progress ?

VI. 38. Draw an outline map of India and mark the following :



1 + 4 = 5

a)  $23\frac{1}{2}^{\circ}$  North Latitude

b) Govinda Sagar

c) Mumbai High

d) Tuticorin.

**Alternative Question for Blind Candidates only : (In lieu of Q. No. 38)**

Mention the main aims of the Multipurpose River Valley Projects.



5



ಒಟ್ಟು ಮುದ್ರಿತ ಪುಟಗಳ ಸಂಖ್ಯೆ : 12 |

Total no. of Printed Pages 12 |

ಒಟ್ಟು ಪ್ರಶ್ನೆಗಳ ಸಂಖ್ಯೆ 38 |

Total no. of Questions 38 |

ವಿಷಯ : ಸಮಾಜ ವಿಜ್ಞಾನ

**Subject : SOCIAL SCIENCE**

( ಇಂಗ್ಲಿಷ್ ಮಾಧ್ಯಮ / English Medium )

( ಶಾಲಾ ಭೃತ್ಯ ಹೀ ಸ್ಥಾನರಾವರ್ತಿತ ಶಾಲಾ ಅಭ್ಯರ್ಥಿ / Regular Fresh & Regular Repeater )

ದಿನಾಂಕ : 06. 04. 2022 |

[ Date : 06. 04. 2022

ಸಮಯ : ಬೆಳಿಗ್ಗೆ 10-30 ರಿಂದ ಮಧ್ಯಾಹ್ನ 1-45 ರವರೆಗೆ ] [ Time : 10-30 A.M. to 1-45 P.M.


ಗರಿಷ್ಠ ಅಂಕಗಳು : 80 |

[ Max. Marks : 80


**General Instructions to the Candidate :**


1. This question paper consists of objective and subjective types of 38 questions.
2. This question paper has been sealed by reverse jacket. You have to cut on the right side to open the paper at the time of commencement of the examination. Check whether all the pages of the question paper are intact.
3. Follow the instructions given against both the objective and subjective types of questions.
4. Figures in the right hand margin indicate maximum marks for the questions.
5. The maximum time to answer the paper is given at the top of the question paper. It includes 15 minutes for reading the question paper.




I. **Four choices are given for each of the following questions / incomplete statements. Choose the correct answer and write the complete answer along with its letter of alphabet.**  **8 × 1 = 8**


1. The sea route between India and Europe was discovered by


(A) Columbus 


(B) Vasco-da-Gama 

(C) Almeida


(D) Albuquerque. 


2. The movement led by Ali brothers was 

(A) Non-Co-operation 

(B) Khilafat 

(C) Civil Disobedience

(D) Quit India. 





3. The policy of keeping safe distance from both the Power Blocs of the world is known as



(A) Non-Alignment



(B) Anti-Apartheid



(C) Anti-Imperialism

(D) Disarmament.



4. Best example for labour without pay among the following is



(A) Nurse




(B) Teacher



(C) Housewife

(D) Police.





5. A periodical started by Dr. B. R. Ambedkar was

(A) Kesari



(B) Mooka Nayaka



(C) Maratha



(D) Bombay Samachar.



6. The Nagarjuna Sagar wildlife sanctuary is located in the state

(A) Karnataka




(B) Kerala



(C) Uttar Pradesh



(D) Telangana.



7. The Constitutional Amendment that brought into existence the three levels of Panchayat institutions is

(A) 24th

(B) 42nd

(C) 73rd

(D) 92nd.

8. The type of bank account where any number of transactions can be made in a day is

(A) Savings Bank Account

(B) Current Account

(C) Recurring Deposit Account

(D) Term Deposit Account.



II. Answer the following questions in a sentence each :



8 × 1 = 8

9. Why did Wellesley resign to his post and return to England ?



10. Who was the first President of India ?

11. When do we celebrate the Human Rights Day every year ?



12. What is mob ?



13. Where does the Eastern Ghats and the Western Ghats meet ?



14. Which type of forests are found in the river deltas ?



15. What is National Income ?



16. Who is the founder of 'Wipro Technologies' ?





III. Answer the following questions in *two to four sentences / points*

each :



8 × 2 = 16

17. What were the results of the battle of Buxar ?



18. What were the conditions of Subsidiary Alliance ?

19. Which are the Panchsheel Principles ?



OR



Explain the struggle of India for the implementation of Human Rights.



20. List out the challenges faced by unorganised sector workers.



OR



Name any four Environmental Movements.





21. Which are the important climatic seasons of India ?



22. What are the causes for soil erosion ?



23. Mention the housing programmes.



24. What are the objectives of Consumer Protection Act ?



IV. Answer the following questions in six sentences / points each :



9 × 3 = 27

25. What were the impacts of British Education in India ?

26. What are the aims of Arya Samaj ?



OR

What were the problems faced by India at the time of Independence ?

27. What are the reasons for the failure of the First War of Indian

Independence ?



28. Explain the relationship of India and Russia.



29. Write the legal measures to eradicate untouchability in India.

30. What are the factors that influence the localization of industries ?



OR

List out the effects of cyclones.



31. What is the importance of transport ? Explain.



32. Point out the various dimensions of gender discrimination prevailing

in present day India.



OR



Explain the features of Panchayat Raj system adopted in India.



33. What are the functions of banks ?



OR

What are the entrepreneur's role in the economic development ?

V. Answer the following questions in about *eight* sentences / points

each :



4 × 4 = 16

34. How did Dhondia Wagh fight against the British ?



OR

Explain the role of Radicals in the Indian Independence Movement.

35. What is the role of Subhash Chandra Bose in the freedom struggle ?

36. Which measures are taken to improve the status of women in

India ?



37. List out the types of agriculture followed in India.





VI. 38. Draw an outline map of India and mark the following : 1 + 4 = 5

a)  $23\frac{1}{2}^{\circ}$  North Latitude



b) Bhakra-Nangal



c) River Kaveri



d) Mumbai.

*Alternative Question for Visually impaired Candidates only :*



( In lieu of Q. No. 38 )



5

Mention the main aims of the Multipurpose River Valley Projects.



---

CCE RF/PF/RR/PR/NSR/NSPR(A)/666/011

**A**

ಮಾರ್ಚ್/ಏಪ್ರಿಲ್ 2024 ರ ಪರೀಕ್ಷೆ - 1  
MARCH/APRIL 2024 EXAMINATION-1

ಒಟ್ಟು ಮುದ್ರಿತ ಪುಟಗಳ ಸಂಖ್ಯೆ : 12 |

Total No. of Printed Pages : 12 |

ಒಟ್ಟು ಪ್ರಶ್ನೆಗಳ ಸಂಖ್ಯೆ : 38 |

Total No. of Questions : 38 |

ಸಂಕೇತ ಸಂಖ್ಯೆ : **85-E**

Code No. : **85-E**

**CCE RF/PF/RR/  
PR/NSR/NSPR  
FULL SYLLABUS**

Question Paper Serial No..

ವಿಷಯ : ಸಮಾಜ ವಿಜ್ಞಾನ

**Subject : SOCIAL SCIENCE**

( ಅಂಗ್ಲ ಮಾಧ್ಯಮ / English Medium )

(ಶಾಲಾ ಅಭ್ಯರ್ಥಿ / ಖಾಸಗಿ ಅಭ್ಯರ್ಥಿ / ಶಾಲಾ ಪುನರಾವರ್ತಿತ ಅಭ್ಯರ್ಥಿ / ಖಾಸಗಿ ಪುನರಾವರ್ತಿತ  
ಅಭ್ಯರ್ಥಿ / ಎನ್.ಎಸ್.ಆರ್. / ಎನ್.ಎಸ್.ಪಿ.ಆರ್.)

(Regular Fresh / Private Fresh / Regular Repeater / Private Repeater / NSR / NSPR)

ದಿನಾಂಕ : 27. 03. 2024 |

[ Date : 27. 03. 2024

ಸಮಯ : ಬೆಳಿಗ್ಗೆ 10-15 ರಿಂದ ಮಧ್ಯಾಹ್ನ 1-30 ರವರೆಗೆ ] [ Time : 10-15 A.M. to 1-30 P.M.

ಗರಿಷ್ಠ ಅಂಕಗಳು : 80 |

[ Max. Marks : 80

27. 03. 2024

**General Instructions to the Candidate :**

Cut here / ಇಲ್ಲಿ ಕತ್ತರಿಸಿ

1. This question paper consists of 38 questions in all.
2. This question paper has been sealed by reverse jacket. **You have to cut on the right side to open the paper** at the time of commencement of the examination ( **Follow the arrow** ). **Do not cut the left side to open the paper.** Check whether all the pages of the question paper are intact.
3. Follow the instructions given against the questions.
4. Figures in the right hand margin indicate maximum marks for the questions.
5. The maximum time to answer the paper is given at the top of the question paper. It includes 15 minutes for reading the question paper.
6. Ensure that the Version of the question paper distributed to you and the Version printed on your admission ticket is the same.

TEAR HERE TO OPEN THE QUESTION PAPER

- I. Four choices are given for each of the following questions / incomplete statements. Choose the correct answer and write the complete answer along with its letter of alphabet. 8 x 1 = 8

1. Punjab was merged into the British empire by

(A) Dalhousie



(B) Wellesley

(C) Robert Clive

(D) Cornwallis

2. Teen Murti Bhavan is in

(A) Jodhpur

(B) Mysore

(C) Hyderabad

(D) New Delhi



3. The type of soil that occupies the largest area in peninsular

plateau is



- (A) Black soil
- (B) Red soil
- (C) Alluvial soil
- (D) Desert soil




4. The father of Green Revolution in India is

- (A) Verghese Kurien
- (B) Sir M. Visvesvaraya
- (C) Dr. M. S. Swaminathan
- (D) Norman Borlaug



5. The highest peak in South India is

(A) Armaconda 

(B) Anaimudi

(C) Mahendragiri

(D) Gourishankar

6. Children helpline number is

(A) 1089

(B) 1098

(C) 101 


(D) 108

7. The declaration of Human Rights made by UNO was in the year

(A) 1947

(B) 1945

(C) 2007

(D) 1948 

8. Every year 'World Consumers Day' is celebrated on

~~(A)~~ March 15th



(B) December 10th

(C) July 11th

(D) June 5th



II. Answer the following questions in a sentence each :  $8 \times 1 = 8$

9. Why did Wellesley resign from his post and return to England ?

10. What was the immediate cause for the first World War ?

11. Which organ is known as the cabinet of the UNO ?



12. What is meant by social stratification ?

13. Why was Child Labour Prohibition and Control Act (1986)

enacted ?



14. Well irrigation is the most important type of irrigation. Why ?

15. What is Fiscal policy ?

16. "Teleshopping has become more popular nowadays." Why ?

**III. Answer the following questions in two to four sentences / points**

each :



8 × 2 = 16

17. How is the government trying to increase literacy in India ?

OR



How is the Security Council of UNO formed ?

18. How is paid work different from unpaid work ?



OR

How can the riots be controlled ?

19. How was Junagadh merged into Indian Union ?

20. "The Indian military was the base of British administration

during the British rule." Justify.



21. "Indian agriculture is gamble with the monsoons." How ?

22. "It has become inevitable in India to take necessary remedies to

prevent the deficit in the energy resources." Why ?



23. "The migration of rural people to cities can be avoided." How ?



24. How do the post offices help to save the money ?

IV. Answer the following questions in six sentences / points each :

9 × 3 = 27

25. How do the banks serve the customers ?

OR



Which characteristics should a person possess to become an entrepreneur ?

26. What were the effects of the battle of Buxar on East India Company ?



OR

How were the revolutionary methods different in the freedom struggle of India ?

27. The role of transportation in economic development is significant. How ?



OR

In India localization of industries is influenced by many factors.

How ?

28. Explain the importance of public finance.



OR

Explain how the pre-harvest and post-harvest technologies brought Green Revolution.

29. "Dewan K. Sheshadri Iyer played an important role in the development of Mysore." Justify.



30. "Annie Besant gave a new vitality to activities of Theosophical Society." Justify.

31. "India has a better relationship with Russia from the beginning."

Explain.



32. Why is the problem of unemployment experienced in India ?

33. How are the evergreen forests different from desert forests ?

V. Answer the following questions in about eight sentences / points

each :



4 × 4 = 16

34. Explain Jallianwala Bagh Massacre.

OR

Explain the impact of British Education in India.

35. "The first war of Indian Independence failed." Why ?



36. "Status of women in India is improving nowadays." Justify.

37. "Cyclones are hazardous." Justify.

VI. 38. Draw an outline map of India and mark the following :



1 + 4 = 5

- a)  $23\frac{1}{2}^{\circ}$  North latitude
- b) River Narmada
- c) Vishakhapatnam
- d) Amritsar.



Alternative Question for Visually impaired Candidates only :

( In lieu of Q. No. 38 )



5

Mention the main aims of the multipurpose river valley projects.

---